

















UNSER KONTINENT - EUROPA



Hier siehst du eine Tabelle mit allen Staaten Europas. In Klammern stehen ihre Autokennzeichen. Trage die Kennzeichen in der Karte ein. Zur Hilfe kannst du im Atlas nachschauen.

Land	Hauptstadt	Land	Hauptstadt	Land	Hauptstadt
Albanien (AA)	Tirana	Kosovo (RKS)	Priština	Rumänien (RO)	Bukarest
Andorra (AND)	Andorra la Vella	Kroatien (HR)	Zagreb	Russland (RUS)	Moskau
Belgien (B)	Brüssel	Lettland (LV)	Riga	San Marino (SM)	San Marino
Bosnien u. Herzegowina (BIH)	Sarajevo	Liechtenstein (FL)	Vaduz	Schweden (S)	Stockholm
Bulgarien (BG)	Sofia	Litauen (LT)	Vilnius	Schweiz (CH)	Bern
Dänemark (DK)	Kopenhagen	Luxemburg (L)	Luxemburg	Serbien (SRB)	Belgrad
Deutschland (D)	Berlin	Malta (M)	Valletta	Slowakei (SK)	Bratislava
Estland (EST)	Tallinn	Mazedonien (MK)	Skopje	Slowenien (SLO)	Ljubljana
Finnland (FIN)	Helsinki	Moldawien (MD)	Chişinău	Spanien (E)	Madrid
Frankreich (F)	Paris	Monaco (MC)	Monaco	Tschechien (CZ)	Prag
Griechenland (GR)	Athen	Montenegro (MNE)	Podgorica	Türkei (TR)	Ankara
Großbritannien (GB)	London	Niederlande (NL)	Amsterdam	Ukraine (UA)	Kiew
Irland (IRL)	Dublin	Norwegen (N)	Oslo	Ungarn (H)	Budapest
Island (IS)	Reykjavík	Österreich (A)	Wien	Vatikanstadt (SCV)	—
Italien (I)	Rom	Polen (PL)	Warschau	Weißrussland (BY)	Minsk
Kasachstan (KZ)	Astana	Portugal (P)	Lissabon	Zypern (CY)	Nikosia

		<p>Überprüfe mit einer Wirtschaftskarte: <i>Richtig oder falsch?</i></p> <p>In der Nähe von Berlin wird Reis angebaut.</p> <p>Berlin ist keine Weltstadt.</p> <p>Westlich von Berlin wird Erdöl gewonnen.</p> <p>In alle Richtungen führen wichtige Straßen.</p>
<p>Land: Deutschland</p>	<p>Hauptstadt: Berlin</p>	
		<p>Überprüfe mit einer Österreich-Karte: <i>Richtig oder falsch?</i></p> <p>Wien liegt an der Donau.</p> <p>Graz liegt nördlich von Wien.</p> <p>Wien grenzt an das Meer.</p>
<p>Land: Österreich</p>	<p>Hauptstadt: Wien</p>	
		<p>Verwende nun eine Karte deiner Wahl. Welche Informationen findest du über Bern?</p>
<p>Land: Schweiz</p>	<p>Hauptstadt: Bern</p>	
		<p>Verwende eine Wirtschaftskarte. Was findest du über Rom heraus?</p>
<p>Land:</p>	<p>Hauptstadt: Rom</p>	

		<p>Verwende eine Karte deiner Wahl. Was findest du über Amsterdam heraus?</p> <hr/> <hr/> <hr/> <hr/> <hr/> <hr/> <hr/> <hr/>
<p>Land:</p>	<p>Hauptstadt: Amsterdam</p>	
		<p>Verwende eine Wirtschaftskarte. Was kannst du über Brüssel herausfinden?</p> <hr/> <hr/> <hr/> <hr/> <hr/> <hr/> <hr/> <hr/>
<p>Land:</p>	<p>Hauptstadt: Brüssel</p>	
		<p>Verwende eine Karte deiner Wahl. Was findest du über Luxemburg heraus?</p> <hr/> <hr/> <hr/> <hr/> <hr/> <hr/> <hr/> <hr/>
<p>Land:</p>	<p>Hauptstadt: Luxemburg</p>	
		<p>Verwende eine Wirtschaftskarte. Welche Informationen findest du über Paris?</p> <hr/> <hr/> <hr/> <hr/> <hr/> <hr/> <hr/> <hr/>
<p>Land:</p>	<p>Hauptstadt: Paris</p>	